



2016

社 会

注 意

1. 試験時間は、11:45～12:15の**30分**です。
2. 問題は **①**・**②**の2つです。
3. 解答用紙に、受験番号と氏名を書きなさい。
4. 解答はすべて**解答用紙**に書きなさい。
5. 先生の指示があるまで、問題用紙をあけてはいけません。
6. 問題についての質問はうけつけません。
7. 試験が終わったら、解答用紙を裏返しにしておきなさい。

1 次の文は、ある中学校で先生と生徒が会話しているようすです。これを読み、各問いに答えなさい。

先生：みなさん、夏休みの①お盆の時期には、お墓参りをしましたか。

生徒A：はい、奈良県に住んでいる祖父母の家に行って、お墓参りをしてきました。②奈良は史跡が多いので、そのあともおじさんにいろんなところを案内してもらいました。

生徒B：わたしもお盆は一家で祖母の家に行きました。鎌倉なので、しょっちゅう行くんですけどね。鎌倉だって③鎌倉幕府がおかれた歴史のある町ですよ。

生徒C：ぼくの母の実家は④山口県なんですけど、今年も行けませんでした。毎年行くわけじゃありません。母はよくお国自慢をしていて、⑤明治時代に活躍した有名人には山口県出身者がたくさんいると言っていました。政治家がたくさん出たそうです。でも、一昨年訪ねたときは、商店街はさびしくて、お年寄りが多いなあと感じました。

先生：なるほど、過疎化や⑥少子高齢化は、現代日本の重要な問題ですね。

生徒A：先生の実家はどこですか。

先生：わたしは⑦岩手県です。

生徒B：岩手県というと⑧世界遺産の中尊寺金色堂があるところですよ。⑨平安時代の後期に奥州藤原氏が活躍していたところですね。

先生：ええ、そうです。わたしの実家はもう少し北の、山に囲まれた小さな町にあります。祖父母の家も近くにあって、先祖は⑩江戸時代から代々農家を営んでいました。わたしが子供のころは、まだかやぶきの屋根だったし、昔は馬も飼っていました。その当時は、近くの川には本当に（ ⑪ ）がいると思っていたものです。

生徒A：先生の子供のころって、⑫昭和の時代のいつごろですか。

先生：幼いころは⑬高度経済成長期にかさなるかな。上京して大学生のころは昭和も終わるころ、そうバブル経済のころですね。いずれにしても、みんなからしたら大昔でしょう。今のインターネットとかスマホなんて、そのころのわたしには、想像もできませんでした。

生徒C：ええ～、すごく不便な生活ですね。ぼくはそんな時代はいやだなあ。

先生：でも、それが普通だったから、不便とも思わないし、毎日楽しく充実してましたけどねえ。

生徒B：それはそうですよ。モノの豊かさと、こころの豊かさは別ものですよ。そんなこと言ったら、大昔の⑭縄文時代の人びとの生活はとんでもなく不幸せということになるけど、そんな単純なことじゃないですよ。

先生：ええ、わたしもそう思います。いやあ、でもお盆のことをみんなが知っていたので、ちょっと安心しました。さあ、予鈴よれいが鳴りましたね。

生徒たち：ありがとうございました。


問1 下線部①について、次のア～オから、お盆（盂蘭盆）とかかわりのないものを1つ選び、記号で答えなさい。

ア 迎え火 イ 先祖供養 ウ 精霊流し エ 除夜の鐘 オ 盆踊り

問2 下線部②について、奈良の史跡について述べた次の文ア～エから、まちがっているものを1つ選び、記号で答えなさい。

- ア 高松塚古墳には、中国で信じられていた空想上の動物が描かれている。
- イ 法隆寺は、中国や朝鮮の影響を受けた、現存する世界最大の木造建築である。
- ウ 正倉院の宝物のなかには、ペルシャやインドの影響を受けたものがある。
- エ 東大寺の南大門には、鎌倉時代の運慶や快慶たちがつくった仏像が置かれている。

問3 下線部③について、下の図版は鎌倉時代の元寇のようすを描いた『蒙古襲来絵巻』という絵巻物です。この絵からもわかる、幕府軍とはことなる元軍の戦法の特徴を1つあげ、12字以内で答えなさい。



問4 下線部④について、山口県の歴史について述べた次の文ア～エから、まちがっているものを1つ選び、記号で答えなさい。

- ア 1185年、壇ノ浦の戦いでは、源義経の活躍で源氏が勝利し、平氏一族は滅んだ。
- イ 室町時代、山口の大内氏に保護された雪舟は、日本の水墨画を完成させた。
- ウ 幕末に、欧米の四カ国が下関を砲撃したのち、長州藩では尊王攘夷の運動がたかまった。
- エ 1895年に下関で結ばれた条約で、日本は清から遼東半島や台湾などを獲得した。

問5 下線部⑤について、明治時代に活躍した有名人について述べた次の文ア～エから、まちがっているものを1つ選び、記号で答えなさい。

- ア 田中正造は、自由民権運動に参加し、足尾銅山鉍毒事件の解決につくした。
- イ 夏目漱石は、イギリスに留学したのち、『わが輩は猫である』などの小説を書いた。
- ウ 北里柴三郎は、アメリカに渡り、黄熱病などの伝染病の研究につくした。
- エ 黒田清輝は、フランスに留学したのち、『湖畔』などの西洋画を描いた。

問6 下線部⑥について、次の文は、厚生労働省のホームページにある、子ども用パンフレット『厚生労働省ってどんなところ?』の一部です。空らんには同じことばがあてはまります。このことばを、漢字2字で答えなさい。

「Q9 歳をとって（ ）が必要になったら、どうするの?」

A9 食事をしたり、お風呂に入ったりするときなどに助けが必要なとき、家や施設で、専門的な（ ）サービスを受けることができるよ。（ ）サービスにかかるお金のはほとんどは、みんなから納めたお金（保険料・税金）から支払われるんだよ。」

問7 下線部⑦について、次の文は岩手県の歴史について述べています。空らんにあてはまることばを、漢字5字で答えなさい。

「797年、坂上田村麻呂は、桓武天皇から（ ）に任命され、この地の^{えみし}蝦夷平定にあたった。802年にはこの地に^{いさわ}胆沢城を築き、その^{きよてん}拠点とした。」

問8 下線部⑧について、次の文は世界遺産について述べています。空らんにあてはまることばを、漢字で答えなさい。

「下の写真は、岐阜県にある、（ ）^{ごう}郷という集落である。^{がっしょうづくり}合掌造の^{だいかおく}大家屋からなる日本独特の集落で、^{ごかやま}富山県の五箇山とともに、1995年、世界文化遺産に登録された。」



問9 下線部⑨について、平安時代の出来事について述べた次の文ア～エから、**まちがっているもの**を1つ選び、記号で答えなさい。

ア 最澄は、唐から帰国後、比叡山に延暦寺を建て、^{こうぼう}弘法大師とよばれた。

イ 遣唐使の停止をすすめた菅原道真は、藤原氏の^{いんぼう}陰謀で大宰府に追放された。

ウ ^{きのつらゆき}紀貫之の『土佐日記』は、女性のふりをして、かな文字で書いた日記文学である。

エ 藤原道長は、4人の娘を天皇にとつがせ、天皇に代わって政治の実権をにぎった。

問10 下線部⑩について、次の文は江戸幕府のしくみについて述べています。空らん（あ）・（い）にあてはまることばを、それぞれ漢字で答えなさい。

「関ヶ原の戦い以降に徳川氏にしたがった大名を（あ）大名といい、石高は高いが、幕府の役職にはつけず、遠隔地に置かれた。そのなかでも、前田氏は、江戸時代をとおして大きな力をもち、治めた（い）藩は、『（い）百万石』とよばれた。」

問11 空らん（⑪）にあてはまることばを、『広辞苑』という国語辞典で調べたところ、次のように説明されています。このことばを答えなさい。

「想像上の動物。水陸両生、形は4～5歳の子供のようで、顔は虎に似、くちばしはとがり、身にうろこや甲羅があり、毛髪は少なく、頭上に凹みがあって、少量の水を容れる。その水のある間は陸上でも力強く、他の動物を水中に引き入れて血を吸う。」（『広辞苑 第六版』岩波書店 2008年）

問12 下線部⑫について、次の文ア～ウは昭和の時代の出来事です。年代順に記号を並べなさい。

- ア 日本が国際連盟を脱退した。
- イ 米が配給制になり、みそや衣料が切符制になった。
- ウ 第1回男子普通選挙がおこなわれた。

問13 下線部⑬について、高度経済成長期は、1955年から1973年です。この時期の、人びとの生活になかったものを、次のア～エから1つ選び、記号で答えなさい。

ア



イ



ウ

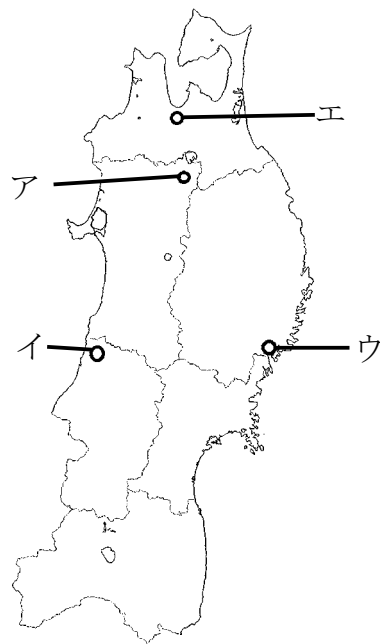


エ



問 14 下線部⑭について、次の文は縄文時代の遺跡について説明しています。空らんにあてはまる遺跡の名前を、漢字で答えなさい。また、その位置を下の地図のア～エから1つ選び、記号で答えなさい。

「1992年から発掘がはじまった()遺跡は、縄文中期の縄文時代最大級の集落遺跡である。紀元前3500年頃から約1500年間あった集落で、広さは約40haと推定され、^{たてあな}堅穴住居の跡が約500軒、大型住居の跡が約20棟、巨大な木柱を使用した高さ約10～20mの大型掘立柱の^{ほったてばしら}跡などが発掘された。原始的な農耕をしていたとも考えられている。」



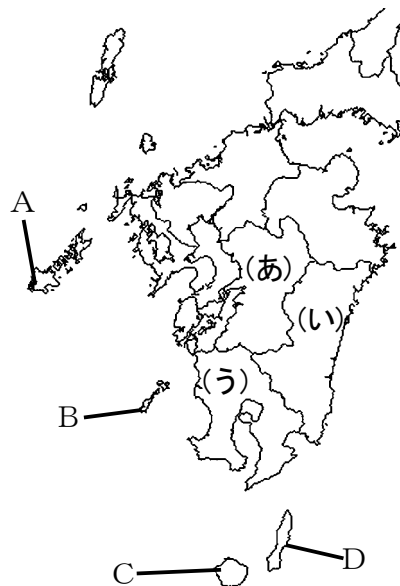
2 九州地方について書かれた次の文を読み、地図も参考にして各問いに答えなさい。

九州地方は古くから大陸の玄関口として発展してきました。たとえば長崎県には、古くから①朝鮮半島との交易の窓口となり、②現在でも韓国との交流がさかんな島や、江戸時代、唯一の③国際貿易港を持つ都市として栄えた④長崎があります。また福岡県には、外交や防衛などのかなめとして置かれた大宰府や、日宋貿易や日明貿易が行われた博多などの都市があります。さらに北九州では、⑤官営の八幡製鉄所が操業を開始すると、この地域は⑥四大工業地帯のひとつとされ、多くの資源が⑦中国から輸入されるようになりました。しかし近年、この地域にあった製鉄所は千葉県などに移転し、その跡地の一部は⑧宇宙をテーマとした⑨テーマパークとなっています。現在このテーマパークは、国内だけでなくアジア全域からの観光客でにぎわいをみせています。

次に⑩九州地方の農業を見てみましょう。福岡県の南部から佐賀県に広がる筑紫平野では米と麦、⑪熊本県の八代平野では米と⑫いぐさを1年の間で栽培する二毛作が行われています。また、宮崎県では野菜や花を普通の時期より早めに栽培する促成栽培がさかんに行われています。さらに⑬沖縄県では、温暖な気候を利用してサトウキビやパイナップルなどの作物が栽培されています。

また、九州地方では肉牛や豚、ブロイラーの飼育などの畜産業もさかんです。しかし2008年に広まった鳥インフルエンザや2010年に広まった口蹄疫などの⑭感染症の影響を受け、多くの家畜が処分されました。

このように九州地方は、現在にいたるまで海外から多くの影響を受けてきました。近年⑮グローバル化ということばが一般的に用いられるようになりましたが、九州地方は古くからこうしたグローバル化に対応してきたといえるでしょう。



問1 下線部①について、朝鮮半島は第二次世界大戦後、大韓民国と朝鮮民主主義人民共和国に分断されています。この2国は北緯何度付近で分断されていますか。解答らんに合わせて数字を書きなさい。

問2 下線部②について、次の文はこの島のことをくわしく説明したものです。この島の名前を漢字で答えなさい。

江戸時代にこの島を治めていた宗氏は、鎖国中も幕府から外交や貿易をすることを認められていました。そのため、朝鮮半島からは将軍がかわるごとに就任祝いの外交使節である朝鮮通信使が訪れました。現在、この島には韓国から多くの観光客が訪れるため、街中にはハングルで書かれた案内や看板を見ることができます。

問3 下線部③について、次の表は日本のさまざまな輸入品の輸入先をまとめたものです。表の中の空らんに通して入る国名を答えなさい。

	肉類	小麦	鉄鉱石	銅鉱
1位	アメリカ	アメリカ	()	チリ
2位	()	カナダ	ブラジル	()
3位	タイ	()	南アフリカ	カナダ

(『日本国勢図会 2014/15』より)

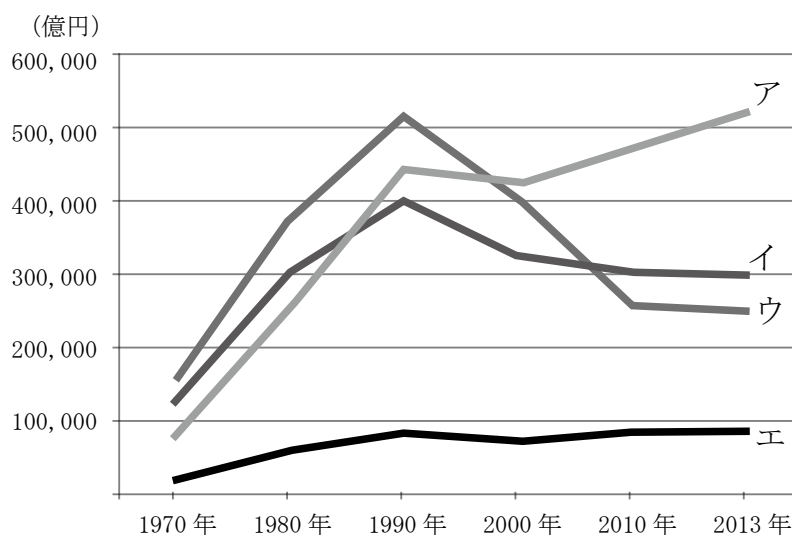
問4 下線部④について、次の写真は長崎にある軍艦島と呼ばれている島です。この島には、1960年に5000人をこえる人びとが生活していましたが、現在この島に住んでいる人はいません。なぜこの島は無人島となったのですか。15字以内で答えなさい。



問5 下線部⑤について、八幡製鉄所が操業をはじめた時期としてあてはまるものを、次の表のア～ウ から1つ選び、記号で答えなさい。

1894年	日清戦争が始まる	ア
1904年	日露戦争が始まる	イ
1931年	満州事変がおこる	ウ
1945年	第二次世界大戦が終結する	

問6 下線部⑥について、次の表は四大工業地帯の製造品出荷額の変化をまとめたものです。この中から阪神工業地帯にあてはまるものを、ア～エから1つ選び、記号で答えなさい。



(『日本国勢図会 2014/15』, 経済産業省「工業統計表」より)

問7 下線部⑦の、中国について述べた文として、**まちがっているもの**を次の文ア～エから1つ選び、記号で答えなさい。

- ア 2010年に国内総生産（GDP）が世界第2位となり、日本を抜いた。
- イ 中国を構成する民族は、漢民族だけでしめられている。
- ウ 現在世界第1位の人口は、将来インドによって抜かれると国連が予想している。
- エ 社会主義の体制をとりながらも、資本主義経済を一部で認めている。

問8 下線部⑧について、九州地方には宇宙についての研究やロケットの打ち上げを行う宇宙センターがあります。この宇宙センターがある島の位置を、地図中A～Dから1つ選び、記号で答えなさい。

問9 下線部⑨について、有名なテーマパークとして東京ディズニーランドがあります。このテーマパークがある都市について書かれたものとして正しいものを、次の文ア～エから1つ選び、記号で答えなさい。

- ア 古くからの町工場が密集しており、食料品や日用品が生産されている。
- イ 古くは漁業がさかんであり、現在は半数近くの住民が市外に通勤している。
- ウ 卸売業がさかんであり、関東地方最大規模の魚市場がある。
- エ 大きな製鉄所があり、東京湾アクアラインで川崎市とつながっている。

問10 下線部⑩について、次の表はさまざまな畜産物や野菜の統計をまとめたものです。X～Zにあてはまる都道府県と地図中の位置（あ）～（う）の組み合わせとして正しいものを、下のア～カから1つ選び、記号で答えなさい。

	肉牛 飼育数	ぶた 飼育数	ブロイラー 飼育数	すいか 生産量	メロン 生産量
1位	北海道	(X)	(Y)	(Z)	茨城
2位	(X)	(Y)	(X)	千葉	北海道
3位	(Y)	千葉	岩手	山形	(Z)
4位	(Z)	北海道	青森	新潟	山形
5位	岩手	群馬	北海道	鳥取	青森

（『日本国勢図会 2015/16』より）

- ア X—（あ） Y—（い） Z—（う） イ X—（い） Y—（う） Z—（あ）
- ウ X—（う） Y—（あ） Z—（い） エ X—（あ） Y—（う） Z—（い）
- オ X—（う） Y—（い） Z—（あ） カ X—（い） Y—（あ） Z—（う）

問11 下線部⑪について、熊本県の県庁所在地の熊本市は、まわりの町と合併が行われ人口が70万人をこえたため、もっとも南にある（ ）都市となりました。（ ）にあてはまることばを漢字で答えなさい。

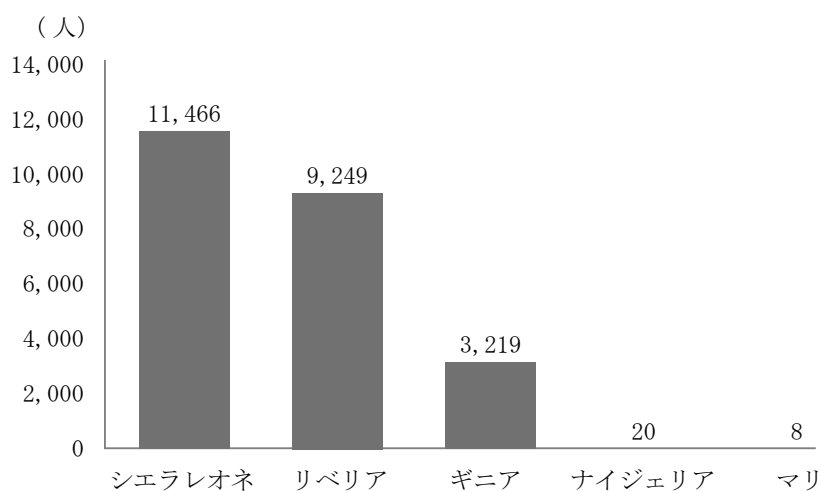
問12 下線部⑫について、いぐさは主に（ ）を作るのに使われます。（ ）にあてはまることばを答えなさい。

問 13 下線部⑬について、次の表は、九州地方にある福岡県・宮崎県・鹿児島県・沖縄県の産業別人口割合と完全失業率を示したものです。沖縄県にあてはまるものを、表中のア～エから1つ選び、記号で答えなさい。

県名	第一次産業	第二次産業	第三次産業	完全失業率
ア	4.9%	13.7%	81.4%	7.6%
イ	10.4%	18.7%	70.9%	5.0%
ウ	3.2%	20.0%	76.8%	6.0%
エ	11.8%	22.1%	66.1%	4.8%

(『データでみる県勢 2014』より)

問 14 下線部⑭について、次のグラフは 2014 年に流行したある感染症の国別患者数をまとめたものです。この感染症の名前として正しいものを、下のア～エから1つ選び、記号で答えなさい。



(WHO ホームページより一部改変して作成)

ア エボラ出血熱 イ 黄熱病 ウ MERSコロナウイルス エ デング熱

問 15 下線部⑮について、グローバル化に関係することばとして適当なものを、次のア～エから1つ選び、記号で答えなさい。

ア バリアフリー社会 イ ドーナツ化現象
ウ フェアトレード エ クーリング・オフ制度

1

問1							問2						
問3													
問4							問5						
問6							問7						
問8	郷						問9						
問10	(あ)					大名	(い)						
問11							問12	→				→	
問13													
問14	名前	遺跡				位置							



2

問1	北緯					度	問2						
問3													
問4													
問5							問6						
問7							問8						
問9							問10						
問11	都市						問12						
問13							問14						
問15													



受験番号	フリガナ	
	氏名	

得点	
----	--