

# 2016

# 社 会

## 注 意

1. 試験時間は、11:45～12:15の**30分**です。
2. 問題は **①**・**②**の2つです。
3. 解答用紙に、受験番号と氏名を書きなさい。
4. 解答はすべて**解答用紙**に書きなさい。
5. 先生の指示があるまで、問題用紙をあけてはいけません。
6. 問題についての質問はうけつけません。
7. 試験が終わったら、解答用紙を裏返しにしておきなさい。

1 群馬県について書かれた次の文を読み、各問いに答えなさい。

群馬県の歴史は旧石器時代から始まります。縄文時代以前にできた関東ローム層の中から、考古学を好んだ相沢忠洋<sup>あいざわただひろ</sup>によって①岩宿遺跡が発見され、群馬県に旧石器時代の人々が暮らしていたことがわかりました。やがて縄文時代になると多くの集落ができ、そこからは②数々の品物が発掘されています。弥生時代には稲作が伝わり人口が増加したため、国ができました。この国は「毛の国」と呼ばれ、その中心地にあたる太田市付近には巨大な③古墳がたくさん残っています。毛の国は④渡良瀬川で東西に分割され、今日の群馬県にあたる地域は上野国<sup>こうずけのくに</sup>と名づけられました。上野国の豪族は朝廷に従い、それまでの⑤神道の信仰に加えて都から仏教が伝わったため、古墳にかえて立派な寺院が建てられました。

平安時代の中ごろから武士が現れ、牧場や農地を開きました。県の南部にある新田郡を開拓したのは、源義国<sup>よしくに</sup>とその子義重<sup>よししげ</sup>です。彼らは⑥京都の貴族にその土地を寄付し、管理者としてその土地を支配しました。義重の子孫は新田の姓を名のりました。新田氏の一族は鎌倉幕府に仕えたため、鎌倉の文化が伝わりました。日本に（ ⑦ ）宗を伝えた栄西は鎌倉に寿福寺を建てましたが、新田氏はその弟子栄朝<sup>えいちょう</sup>を呼んで太田市の世良田<sup>せらだ</sup>に長楽寺<sup>ちやうらくじ</sup>を建立し、そこを中心に文化が栄えました。

鎌倉時代の末、新田義貞は鎌倉幕府を滅ぼし、後醍醐天皇に仕えましたが、（ ⑧ ）に敗れました。それ以後、戦国時代にかけて戦乱が続き、各地に⑨城ができました。しかし、豊臣秀吉が関東を支配すると平和が訪れ、秀吉は関東を徳川家康に与えました。家康は徳川氏の先祖が新田氏の一族であると言って、太田市の南部に残る先祖が建てたと伝えられる満徳寺<sup>まんとくじ</sup>という尼寺を保護しました。そのため、当時、女性からの離婚が禁止されていたにもかかわらず、この寺に逃げ込むと離婚できることから、⑩満徳寺は縁切寺と呼ばれました。

江戸時代、上野国は幕府が直接支配する天領のほか、大名が支配する藩も置かれ、複雑な支配が行われたうえ、⑪浅間山の大噴火による被害も大きく、百姓一揆が多く起こりました。そのため明治維新後、群馬県となると、ここは治めにくい県と考えられ、長州藩主に仕えていた実力者の⑫榎取素彦<sup>えとりもとひこ</sup>が現在の県知事にあたる県令に任命されました。彼は、前橋に県庁を移し、教育や産業の発展に力をつくし、生糸を横浜へ運搬するため、東京から群馬へ鉄道をつくる計画も立てました。1884（明治17）年、現在の高崎線にあたる鉄道が開通し、前橋と上野が結ばれ、1889（明治22）年には栃木県方面から両毛鉄道が前橋まで開通しました。1893（明治26）年には、⑬横川駅から軽井沢駅までの難所の工事が終わり、長野県へ鉄道が開通しました。しかしこの路線は新潟方面に行くためにはたいへん遠回りなため、谷川岳の下に長い⑭トンネルを掘って、1931（昭和6）年、新潟県と群馬県を直接結ぶ上越線が開通し、⑮群馬県は境を接する5県のうち4県と鉄道で直接結ばれました。

問1 下線部①について、この遺跡の出土品を次の図ア～エから1つ選び、記号で答えなさい。

ア



イ



ウ



エ



問2 下線部②について、下の写真は東<sup>ひがしあがつま</sup>吾妻町にある郷原遺跡から発掘されたものです。これを何といいますか。次のア～エから1つ選び、記号で答えなさい。

ア 埴輪

イ 土偶

ウ 仏像

エ 木簡



問3 下線部③について、古墳時代について述べた次の文ア～エから、まちがっているものを1つ選び、記号で答えなさい。

ア 大阪府にある大山古墳は日本最大の古墳で、蘇我馬子の墓と伝えられている。

イ 古墳の中には、鏡、玉、馬につける道具、土器、剣などが入れられていた。

ウ 古墳の表面はたくさんの石で覆<sup>おお</sup>われていた。

エ 古墳ができたころの民衆は竪穴住居に住み、石器や木でできた道具を使っていた。

問4 下線部④について、渡良瀬川は、明治時代に上流の鉾山から鉾毒が流れ出して社会問題となりました。この鉾山で主に産出された金属で作られたものを次の図ア～エから1つ選び、記号で答えなさい。

ア



イ



ウ



エ



問5 下線部⑤について、富岡市の貫前神社<sup>ぬきさき</sup>は古代の有力豪族である物部氏一族が氏神を祀<sup>まつ</sup>った神社です。神道を信仰する物部氏は、百濟より伝わった仏教を信仰する豪族の蘇我氏やその娘を妻とした皇子と対立して滅ぼされました。後に仏教を厚くうやま<sup>まつ</sup>ったこの皇子の名を答えなさい。

問6 下線部⑥について、このようにしてできた土地を漢字2字で答えなさい。

問7 空らん ( ⑦ ) にあてはまることばを漢字2字で答えなさい。

問8 空らん ( ⑧ ) にあてはまる武将を次のア～エから1つ選び、記号で答えなさい。

ア 足利尊氏      イ 楠木正成      ウ 北条高時      エ 織田信長

問9 下線部⑨について、太田市には金山城<sup>かなやま</sup>があり、日本の名城100選に指定されました。日本の城について述べた次の文ア～エから、ま<sup>ち</sup>が<sup>つ</sup>て<sup>い</sup>る<sup>も</sup>の<sup>を</sup>1つ選び、記号で答えなさい。

ア 戦いに鉄砲が登場するようになると、鉄砲の弾<sup>たま</sup>が届かない高い山の上に城をつくるようになった。

イ 安土城は織田信長が琵琶湖のほとりに建てた城で、城下町にはキリスト教の教会が建てられた。

ウ 伏見城は豊臣秀吉が京都盆地のほぼ中央付近に建てた城で、桃山文化の名のもととなった豪華な城であった。

エ 多くの城が明治維新で不要とされ、残ったものも太平洋戦争で焼かれて、当時のまま現存する城はわずかである。

問 10 下線部⑩について、江戸時代には女性の地位が低かったため、女性から離婚をするには、このような寺院の力を借りる必要がありました。女性は男性に従うべきだと説いた教えは、江戸時代の武士が主に学んだ教えの影響が強いとされています。この教えを次のア～エから1つ選び、記号で答えなさい。

ア 儒教            イ 仏教            ウ キリスト教            エ 神道

問 11 下線部⑪について、この大噴火が起こった 1783 年ころの世の中の様子について述べた文を、次のア～エから1つ選び、記号で答えなさい。

ア 商業を重んじた老中の田沼意次は、商人からわいろをたくさん受け取ったと批判された。

イ 農業を重んじた将軍の徳川吉宗は、傾いていた幕府の財政を立て直した。

ウ 幕府の方針に反対している大名や武士を大老の井伊直弼が厳しく処分した。

エ 仏教の教えを信じて、将軍徳川綱吉はすべての生き物を大切にしよう命令した。

問 12 下線部⑫の人物の妻の兄は幕末の有名な学者である吉田松陰です。吉田松陰について述べた文を、次のア～エから1つ選び、記号で答えなさい。

ア 江戸の日本橋とロンドンの川は水でつながっていると「海国兵談」で述べて処罰を受けた。

イ 黒船に乗りこもうとして失敗し、松下村塾で多くの志士を育てたが死刑になった。

ウ 薩摩藩と長州藩の同盟を結ばせ、大政奉還の計画を進言したが、暗殺された。

エ 外国船を追い払う政策に反対したため、牢に入れられたが脱獄し、顔を焼いて隠れたが見つかって処刑された。

問 13 下線部⑬について、この区間は 1997（平成 9）年、鉄道が廃線となりました。廃線となった理由を 15 字以内で答えなさい。

問 14 下線部⑭のトンネルを抜けると一面の雪景色になっていた様子を小説『雪国』で著し、後に日本人として初めてノーベル文学賞を受賞した作家を、次のア～エから1つ選び、記号で答えなさい。

ア 大江健三郎            イ 川端康成            ウ 三島由紀夫            エ 夏目漱石

問 15 下線部⑮にあるように、群馬県と道路や鉄道で直接往来できない県が1つあります。その原因となっている県境にある自然の豊富な地域の名を漢字2字で答えなさい。

2 観光について書かれた次の文を読み、各問いに答えなさい。

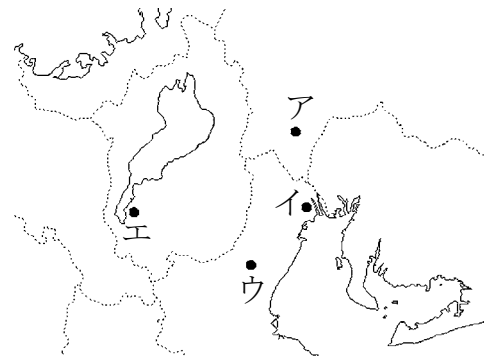
日本で観光が行われるようになるのは江戸時代になってからです。庶民の間にも旅を楽しむ人々が増え、街道沿いには①宿場や茶屋が見られるようになりました。特に、伊勢神宮や②善光寺などの神社や寺院をお参りする人々が多く見られ、( ③ ) 町が発達しました。

高度経済成長期に入り、生活が豊かになると、観光はより盛んになりました。各地の④温泉地やスキー場、ゴルフ場、海水浴場などに多くの観光客が訪れ、⑤海外旅行をする日本人の数も増えました。⑥ 1990年代に入ると地域の経済を活性化することを目的に各地に⑦テーマパークが建設されました。また、2008年には⑧国土交通省の外局として観光庁が設置されました。

観光が発達するにともなって、新しいかたちの観光が見られるようになり、特に自然に親しむかたちの観光は人気があります。自然について学び、自然をそこなわないように配慮しながら観光を行うエコツーリズムとよばれる観光が盛んになっています。また、2004年には⑨ユネスコの支援によって世界ジオパークネットワークが設立され、貴重な自然を観光に生かそうとする動きが見られます。現在日本では⑩ 7ヶ所が世界ジオパークに登録されています。

【地図1】

問1 下線部①について、五街道の1つである東海道の宿場町にあてはまらないものを【地図1】のア～エから1つ選び、記号で答えなさい。

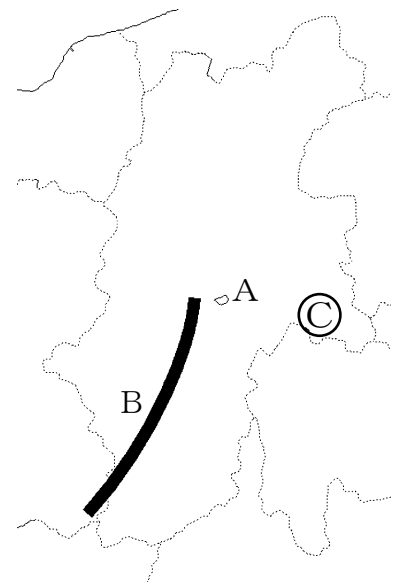


【地図2】

問2 下線部②について、【地図2】は善光寺がある長野県を示したものです。

(1) 次の文は【地図2】のAの湖周辺での工業の歴史について書かれたものです。下線部(あ)～(え)のうちまちがつているものの記号を1つ選び、正しいことばを答えなさい。

この地域では明治から昭和の初めにかけて製糸業が発達しました。周辺で生産された原料を利用した(あ) 綿糸は、当時の日本の重要な輸出品でした。第二次世界大戦後は



(い) 時計やカメラなどの精密機械工業が発達しました。さらに、1980年代に(う) 中央自動車道が開通したことで交通の便がよくなり、(え) ICや電子部品を作る工場が進出しました。

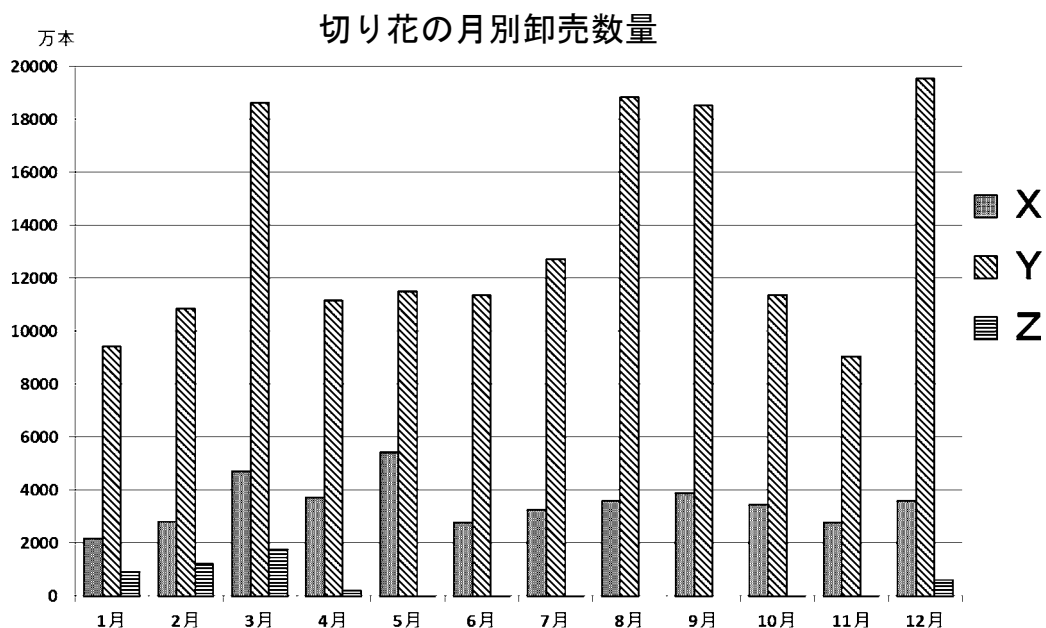
(2) 【地図2】のBの山脈の名前を漢字で答えなさい。

(3) 【地図2】のCの地域ではこの地域の気候をいかした農業が行われています。この農業で栽培されている作物の生産量上位5位までの都道府県を示したものとして正しいものをア～エから1つ選び、記号で答えなさい。ただし、ア～エはレタス、りんご、ぶどう、西洋なしのいずれかです。

	1位	2位	3位	4位	5位
ア	山梨	長野	山形	岡山	福岡
イ	青森	長野	山形	岩手	福島
ウ	長野	茨城	群馬	兵庫	長崎
エ	山形	新潟	長野	青森	福島

(『日本国勢図会』2015/2016年度版より作成)

(4) 長野県はカーネーションの生産量が全国1位です。次の図は切り花のうちカーネーション、きく、チューリップの月別卸売数量を示したものです。X～Zと花の種類の組み合わせとして正しいものを次のア～カから1つ選び、記号で答えなさい。



(農林水産省 花き流通統計調査報告 平成20年度より作成)

- ア X カーネーション Y きく Z チューリップ  
 イ X カーネーション Y チューリップ Z きく  
 ウ X チューリップ Y カーネーション Z きく  
 エ X チューリップ Y きく Z カーネーション  
 オ X きく Y チューリップ Z カーネーション  
 カ X きく Y カーネーション Z チューリップ

問3 空らん( ③ )にあてはまることばを漢字2字で答えなさい。

問4 下線部④について、【表1】は温泉地、スキー場、ゴルフ場、海水浴場の数が多い都道府県を10位までを示したもので、左から多い順にならべてあります。温泉地にあてはまるものを表のア～エから1つ選び、記号で答えなさい。

【表1】

ア	長野	北海道	兵庫	千葉	栃木	茨城	静岡	岐阜	埼玉	群馬
イ	北海道	長野	新潟	岐阜	山形	群馬	秋田	福島	兵庫	広島
ウ	新潟	千葉	長崎	福井	鹿児島	静岡	北海道	山口	兵庫	東京
エ	北海道	長野	新潟	福島	青森	秋田	静岡	熊本	群馬	鹿児島

(『データでみる県勢』2014年度版より作成)

【表2】

問5 下線部⑤について、【表2】は2012年の日本人の海外旅行先を示したものです。空らん【 】にあてはまる国の写真を次のア～エから1つ選び、記号で答えなさい。

出国先	訪問者数(千人)
アメリカ合衆国	3,698
韓国	3,519
【 】	3,518
台湾	1,432
タイ	1,374

(『地理統計』2015年版より作成)

ア



イ





ウ



エ



問6 下線部⑥について、次のア～エのできごとのうち、1990年代に起こったものを1つ選び、記号で答えなさい。

ア チェルノブイリ原子力発電所事故

イ アメリカ同時多発テロ

ウ ベトナム戦争

エ 阪神淡路大震災

問7 下線部⑦について、次のテーマパークについて説明した文を読んで、以下の問いに答えなさい。

- ・ハウステンボスは (a) 長崎県佐世保市にあるテーマパークで、古い (b) オランダの町並みを再現しています。
- ・スパリゾートハワイアンズは福島県いわき市にある、ハワイをイメージしたテーマパークです。周辺にあった炭鉱で (c) 石炭を掘る際に出た温泉を利用してつくられました。

(1) 下線部 (a) について、次の表は人口が同じくらいの長崎県佐世保市、群馬県太田市、茨城県水戸市、東京都府中市の統計を示したものです。長崎県佐世保市にあてはまるものをア～エから1つ選び、記号で答えなさい。

	人口総数 (人)	年齢別人口 (%)			農業産出額 (百万円)	製造品 出荷額等 (百万円)	商業年間 商品販売額 (百万円)
		15歳未満	15～64歳	65歳以上			
	2010年	2010年	2010年	2010年	2006年	2011年	2006年
ア	268,750	13.9%	63.2%	21.5%	11,810	112,381	1,520,141
イ	216,465	15.2%	64.0%	20.2%	19,030	1,840,748	711,097
ウ	255,506	13.3%	68.0%	18.1%	910	823,351	567,281
エ	261,101	13.6%	60.0%	25.5%	9,830	183,782	646,786

(総務省統計局ホームページより作成)

(2) 下線部 (b) について、オランダで現在使われている通貨の単位を答えなさい。

(3) 下線部 (c) について、日本の石炭の利用の目的を示した右の空らん【 】にあてはまることばを答えなさい。

【 】の燃料	43.0%
製鉄の原料	37.5%

問8 下線部⑧について、次の文はさまざまな官公庁の仕事について書かれたものです。国土交通省の外局や特別な機関の仕事に**あてはまらないもの**を次のア～エから1つ選び、記号で答えなさい。

- ア 海上の安全を守るため、海上の警備のほか海難救助や海洋調査の仕事を行う。
- イ 太陽光や風力、地熱などの新しいエネルギーの研究や開発を行う。
- ウ 測量をして地図を作成するほか、地震などによる地殻変動を監視する。
- エ 気象や地震・火山活動、地球環境などのデータを調査し、情報を提供する。

問9 下線部⑨について、ユネスコは国際連合の専門機関です。国連にある安全保障理事会の常任理事国に**あてはまらないもの**を次のア～カから1つ選び、記号で答えなさい。

- ア ロシア      イ アメリカ合衆国      ウ ドイツ      エ 中華人民共和国
- オ フランス      カ イギリス

問10 下線部⑩について、次の文はあるジオパークについて書かれたものです。空らん( あ )、( い )にあてはまる地名を漢字で答えなさい。

( あ ) ジオパークは5億年前に誕生したヒスイから3,000年前の焼山まで、幅広い年代差の地質、標高差のある地形と、それに対応したさまざまな動植物が見られます。フォッサマグナの西側の断層である「( あ ) - ( い ) 構造線」が通るなど、日本列島の成り立ちを示す貴重な地質や特徴的な地形を見ることができます。

1

問1		問2	
問3		問4	
問5		問6	
問7	宗	問8	
問9		問10	
問11		問12	
問13			
問14		問15	



2

問1			
問2	(1) 記号	ことば	(2) 山脈
	(3)		(4)
問3		町	問4
問5			問6
問7	(1)		(2)
	(3)		
問8			問9
問10	(あ)		(い)



受験番号		フリガナ	
		氏名	

得点	
----	--