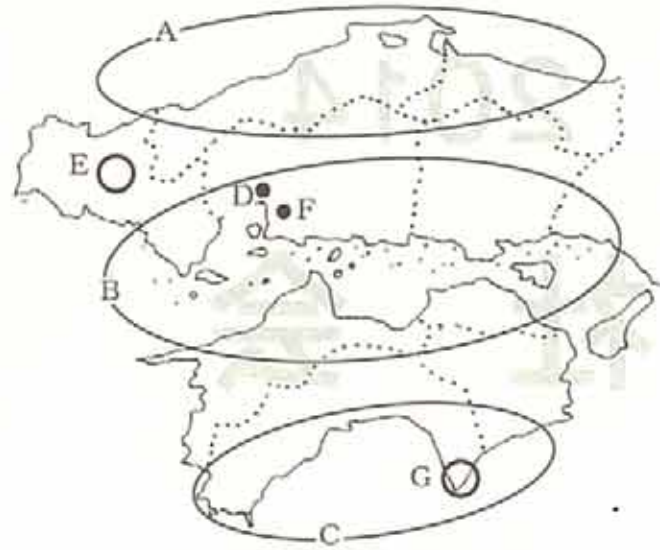


2014 社 会

注 意

1. 試験時間は、11:45～12:15の**30分**です。
2. 問題は ①・②の2つです。
3. 解答用紙に、受験番号と氏名を書きなさい。
4. 解答はすべて**解答用紙**に書きなさい。
5. 先生の指示があるまで、問題用紙をあけてはいけません。
6. 問題についての質問は受けつけません。
7. 試験が終わったら、解答用紙を裏返しにしておきなさい。

1 下の中国・四国地方の地図を見て、以下の問いに答えなさい。



問1 この地域の気候などについて、

- (1) 次の文は、日本海に面する地域Aの気候の特徴を説明したものです。(あ)～(う)にあてはまる言葉の組み合わせとして正しいものを、下のア～カから1つ選び、記号で答えなさい。

日本海に面する地域Aは、(あ)、日本海から吹いてくる(い)からの(う)季節風の影響を強くうけます。そのため、東部を中心に(あ)に比較的多くの降水量が見られます。

- ア あ：夏 い：南東 う：かわいた
 イ あ：夏 い：南東 う：しめった
 ウ あ：夏 い：北西 う：かわいた
 エ あ：冬 い：北西 う：かわいた
 オ あ：冬 い：北西 う：しめった
 カ あ：冬 い：南東 う：しめった

- (2) 風が各地の気候に大きな影響を与えることは、ほかの地域でも見られます。東北地方の太平洋側に夏の時期に吹き、冷害とそれによる米の不作を引き起こす原因になる風を何といますか。答えなさい。

- (3) 次の文は、瀬戸内海沿岸の地域Bの気候とそれを利用した産業について説明したものです。空らんにあてはまる言葉を答えなさい。

一年を通じて比較的雨が少ない地域Bでは、その気候を利用して、江戸時代以降、()の生産がさかんでした。しかし、第二次世界大戦後、生産方法が変わったために()を生産していた場所は姿を消し、埋め立てられて工場群がつけられました。

- 問2 日本海に面する地域Aや太平洋に面する地域Cは、全国的に見ても人口密度が低い地域です。こうした地域では、農村から都市への若い人々を中心とした人口の流出がはげしく、地域の社会生活にも困難が生まれる状況となっています。このような状況を何といますか。答えなさい。

- 問3 中国地方の中心都市である都市Dには「原爆ドーム」があり、1996年に世界遺産に登録されています。

- (1) 世界遺産に登録、保護する国際団体は、教育や文化の振興を通じて、戦争の悲劇をくり返さないようにしようという考えのもとでつくられました。この国際団体を何といますか。カタカナ4字で答えなさい。

- (2) 日本国内の世界遺産とそれがあある都道府県の組み合わせとして正しいものを、次のア～エから1つ選び、記号で答えなさい。

- ア 平泉—宮城県 イ 日光—栃木県 ウ 小笠原諸島—静岡県
 エ 屋久島—沖縄県

- 問4 地域Eには、石灰岩など水にとけやすい岩石が、長い期間に雨水や地下水などによって侵食されてできた地形が見られます。ここには多くの洞窟があり、国定公園に指定されています。

- (1) この地域の名前を、漢字で答えなさい。

- (2) 国定公園は、自然公園法に基づいて内閣の大臣によって指定され、都道府県によって管理されたものをいいます。国定公園を指定する内閣の大臣を、次のア～エから1つ選び、記号で答えなさい。

- ア 環境大臣 イ 国土交通大臣 ウ 農林水産大臣
 エ 文部科学大臣

問5 地域Fは熊野筆の生産地として知られ、熊野筆は書道用の筆や絵を描くための画筆などに利用され、伝統的工芸品に指定されています。

(1) 次の①～③の伝統的工芸品の生産地を、右の地図中のア～カからそれぞれ1つずつ選び、記号で答えなさい。

- ① 伊万里焼 ② 鈴鹿墨
- ③ 曲げわっぱ



(2) 伝統的工芸品やそれを生産する伝統産業について説明した文としてまちがっているものを、次のア～エから1つ選び、記号で答えなさい。

- ア 伝統的工芸品とは、伝統的な技法により、おもに手工業的に生産され、日常生活に用いられるものをさす。
- イ 「地産地消」の考え方のもと、各地の伝統的工芸品の利用が増えていることから、その生産額は年々増加している。
- ウ 伝統的工芸品を生産する職人の高齢化が進んでいることから、各地で若い後継者に古くから受け継がれてきた技法を伝える試みも行われている。
- エ 伝統的工芸品を生産する伝統産業の中には、新しい技術を取り入れ、機械化によって大量生産を行うことで地場産業として地域の経済を支えているものもある。

問6 地域Gは、地球を研究するうえで重要な自然の遺産であるとともに、自然に親しむための公園であるとして世界ジオパークネットワークに加盟しています。

(1) この地域の名を、次のア～エから1つ選び、記号で答えなさい。

- ア 足摺岬 イ 犬吠埼 ウ 石廊崎 エ 室戸岬

(2) 日本国内には、地域Gのほかにも世界ジオパークネットワークに加盟している地域があります。それについて説明した文①、②を読み、あてはまる地域を、下の地図中のア～カからそれぞれ1つずつ選び、記号で答えなさい。

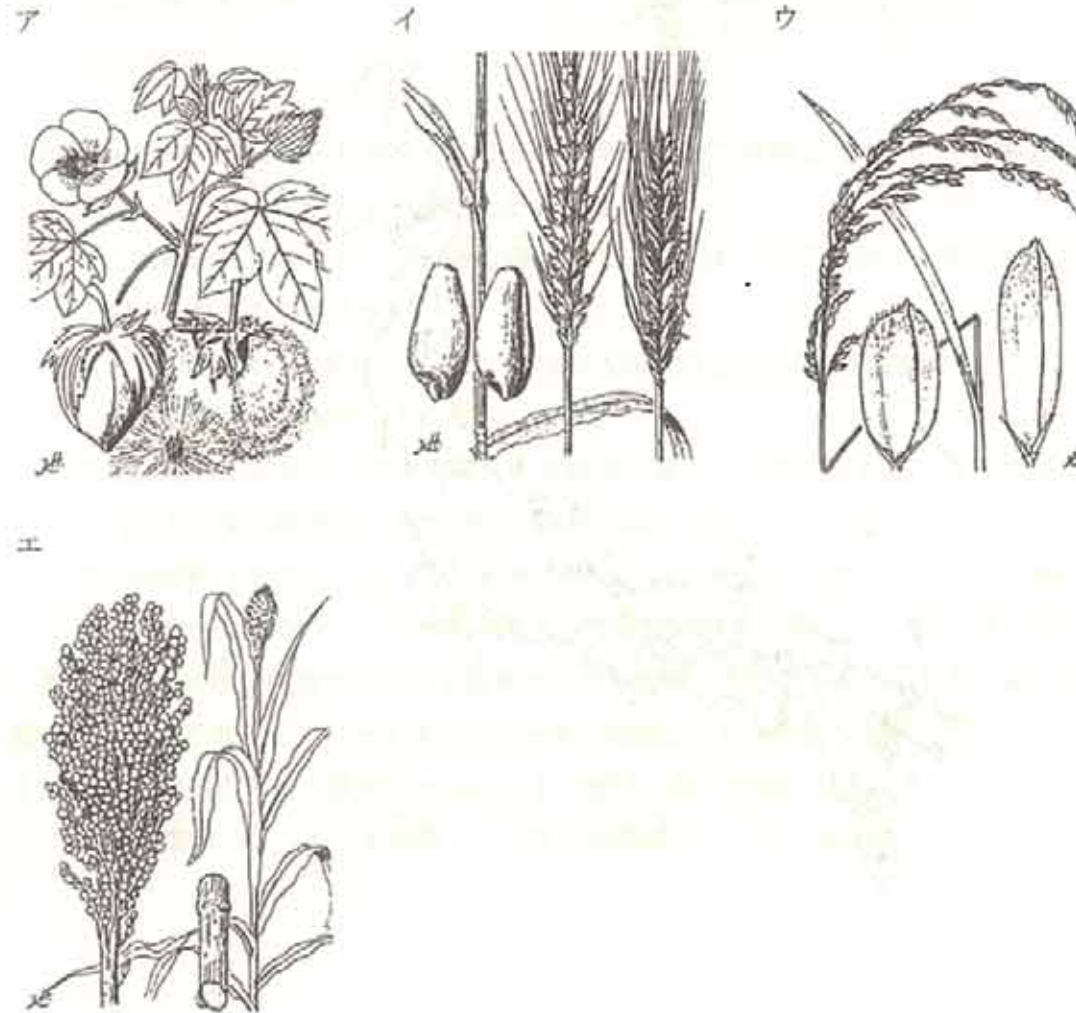
- ① 火山である雲仙普賢岳を含む地域であり、火山の噴火は人々の生活に影響を与えてきた。「活火山と人の共生」をテーマとするジオパークとなっている。
- ② 有珠山などの火山によって形成された自然とそれによってはぐくまれた縄文時代の遺跡からなるジオパークである。周辺の湖では2008年に主要国首脳会議が行われた。




2 日本の食品についての、次のそれぞれの文章を読み、以下の各問いに答えなさい。

A 縄文時代、人々は狩りや漁でとったえものを焼いて食べ、畑で育てたイモ類や①ヒエ、キビなどの穀物を土器で煮て食べました。あく抜きをした②ドングリやクルミなどを粉にしてこね、クッキーのような形にして炉の灰の熱で焼いたものもありました。

問1 下線部①について、縄文時代の終わりころ北九州から栽培が始まり、弥生時代に各地に広まった穀物を、下の図ア～エから1つ選び、記号で答えなさい。



問2 下線部②について、ドングリなどを粉にするためすりつぶした道具を、下の図ア～エから1つ選び、記号で答えなさい。



B 奈良時代の貴族は、アワビやナマコ、エビなどを焼いたものに、③ハスの実が入った米、牛乳を煮つめてつくったチーズのようなもの、フキや④菜の花をゆでたもの、つけ物、⑤セリの汁ものに干し柿などのデザートを食べました。

問3 奈良時代の貴族の食卓を飾った食品は、諸国より税として集められたものでした。この時代に、諸国の特産物や地名の由来などを国ごとにまとめた書物の名前を漢字で答えなさい。

問4 下線部③について、奈良時代には仏教で大切にされるハスの花が喜ばれました。ハスは仏教がおこった国の国花でもあります。この国の名前を答えなさい。

問5 下線部④について、菜の花は野菜として食べられていましたが、江戸時代より別の利用法が現れました。それについて説明したものとして正しいものを、次の文ア～エから1つ選び、記号で答えなさい。

- ア 黄色い花びらをつき固めて、赤い色を取り出し、口紅などに利用した。
- イ 茎や葉を絞って汁をとり、発酵させて青い染物に利用した。
- ウ 葉をむして、紙の上で揉みながらあぶったものに湯を入れて飲み物にした。
- エ 種をすりつぶしたものを絞って油をとった。

問6 下線部④について、夕方の菜の花の畑の様子を歌った次の曲は、大正3年より文部省唱歌として学校で歌われた有名な曲です。この曲名を、次のア～エから1つ選び、記号で答えなさい。

菜の花^{はな}に、入日^{いっぴつ}薄^{うす}れ、見わたす山^{やま}の端^{はた}、霞^{かすみ}ふかし。
春風^{はるかぜ}そよふく、空^{そら}を見れば、夕月^{ゆふつき}かかりて、にほひ淡^{あは}し。

- ア 麗月夜
- イ 春の小川
- ウ 花
- エ 荒城の月

問7 下線部⑤のセリを使った行事について説明したものとして正しいものを、次のア～エから1つ選び、記号で答えなさい。

- ア 1月7日の節句に、あぜ道などでセリをつみ、ダイコン、カブ、ハコベなどと粥^{かゆ}にして食べました。
- イ 3月3日の節句に、女の子の幸せを願って、吸い物にセリを入れました。
- ウ 5月5日の節句に、セリの葉をお風呂に入れて香りを楽しみました。
- エ 9月9日の節句に、セリに綿をかぶせて香りを移し、その綿を衣服の香りづけに用いました。

C 安土・桃山時代には、南蛮人がはるばるヨーロッパから訪れ、トウガラシを使った料理や、⑥魚を油で揚げたてんぷら、カステラやコンペイトウといったお菓子を伝えました。江戸時代になると農民は、朝にかまどでごはんを炊き、貝や⑦青菜のみそ汁につけ物がおかずの食事を朝と昼にとり、夜はごはんが固くなっているため「おかゆ」や「おじや」にして食べました。おやつには、⑧焼き芋や餅が食べられました。

問8 下線部⑥について、徳川家康はこれを食べたところ中毒になって死んだと伝えられています。次の文ア～エのうち、徳川家康と関係のないものを1つ選び、記号で答えなさい。

- ア 長崎や博多の商人に朱印状を与えて東南アジア諸国と貿易をさせた。
- イ キリスト教の信仰を禁じる禁教令を出した。
- ウ 大阪（大坂）夏の陣で豊臣氏を滅ぼした。
- エ 4人の少年をローマ法王のもとへ遣わした。

問9 下線部⑦について、当時から江戸でとれる名産の青菜として有名な野菜の名を、次のア～エから1つ選び、記号で答えなさい。

- ア 小松菜
- イ 水菜
- ウ ほうれんそう
- エ 野沢菜

問10 下線部⑧について、焼き芋の原料のさつまいもの栽培を青木昆陽に命じて研究させた将軍の名前を、漢字で答えなさい。

D 明治時代になると、⑨外国との貿易が盛んに行われた横浜で、西洋の料理が食べられるようになりました。角切りの牛肉を野菜と煮こんだ⑩牛鍋や、パンのほか、アイスクリームも登場しました。

問11 下線部⑨について、幕末から明治時代にかけて八王子から横浜へ、外国へ輸出する品物がたくさん運ばれました。この品物を、次のア～エから1つ選び、記号で答えなさい。

- ア 茶
- イ 生糸
- ウ 綿花
- エ 米

問12 下線部㉑について、牛鍋から発展して、今日多くの人々に食べられているものに牛丼がありますが、2004年に多くの店で牛丼の販売が中止されることがありました。この原因として正しいものを、次の文ア～エから1つ選び、記号で答えなさい。

- ア 過激派によるテロによって、日米間の交通が一時さえぎられたため。
- イ 牛の蹄に水ぶくれができ、よだれをたらす病気が、アメリカで発生したため。
- ウ アメリカの牛肉の輸入に対して、日本の農業団体が激しい反発を行ったため。
- エ アメリカで牛がけいれんをおこし、立てなくなる病気が発生したため。

E 太平洋戦争が終わると、㉒栄養が不足する児童のために、学校の給食でコッペパンと脱脂粉乳(スキムミルク)、コロッケやクジラの竜田揚げなどのおかずが出されました。やがてパンに代わって米飯や、そのまま食べられるソフトめんなどが出されるようになりました。

問13 次の献立はある日の給食のメニューです。それについて説明したものとしてまちがっているものを、次の文ア～オから1つ選び、記号で答えなさい。

ごはん みそ汁 サケのムニエル キャベツのソテー アンニンフルーツ

- ア 日本で食べられている米は国産が中心だが、最近レストランなどでは中国産やアメリカ産の米も使われるようになった。
- イ みそ汁に使われる味噌は米や麦、大豆を発酵させて作られている。
- ウ サケは日本でとれたもののほか、南米のチリなどで養殖されたものも多くなった。
- エ キャベツは国産のものが多かったが、アメリカで採れたものが増加している。
- オ デザートに使われる缶詰のフルーツは、中国やフィリピンで採れたものが多い。

問14 下線部㉑について、戦争や内乱のため食糧が不足する地域の子供たちを助けることを目的に、当時の日本に脱脂粉乳などを援助し、現在でも各国の子供たちを助け、子供の権利条約の普及などの活動を行っている国際組織は何ですか。次のア～エから1つ選び、記号で答えなさい。

- ア ユニセフ イ 世界保健機関 ウ NATO エ NGO

問15 文部科学省では、地域の食文化を通じて郷土への関心を深めることを目的の1つとして、米飯給食をすすめています。次のア～エの郷土の食材を利用した料理と産地の組み合わせとしてまちがっているものを、ア～エから1つ選び、記号で答えなさい。

- ア ゴーヤを豆腐、卵、豚肉をいためたもの・・・沖縄県
- イ 殻をむいたカキと油揚げ、ニンジンやシイタケを炊き込みご飯にしたもの・・・愛知県
- ウ 桜エビとシラスを、タマネギなどどかき揚げにしたもの・・・静岡県
- エ 塩ザケと大根、ジャガイモなどを、昆布だしとしょう油で煮こんだもの・・・北海道

1

問1	(1)			(2)		
	(3)					
問2						
問3	(1)			(2)		
問4	(1)			(2)		
問5	(1)	①	②	③	(2)	
問6	(1)	(2)	①			



2

問1		問2	
問3		問4	
問5		問6	
問7		問8	
問9		問10	
問11		問12	
問13		問14	
問15			



受験番号

フリガナ
氏名

得点