

# 2014 社 会

## 注 意

1. 試験時間は、11:45～12:15の**30分**です。
2. 問題は ①・②の2つです。
3. 解答用紙に、受験番号と氏名を書きなさい。
4. 解答はすべて**解答用紙**に書きなさい。
5. 先生の指示があるまで、問題用紙をあけてはいけません。
6. 問題についての質問はうけつけません。
7. 試験が終わったら、解答用紙を裏返しにしておきなさい。

1 次の地図は、日本のおもな貿易港をしめしたものです。これを見て、以下の各問いに答えなさい。



問1 地図中Aの空港は、日本で最も貿易額の多い空港であるとともに、日本で国際線の利用者数が最も多い空港でもあります。

(1) 次の表は、Aの空港の輸出額と輸入額の割合をしめしたものです。また、のちの文は表中の(①)の製品を説明したものです。文中の【 】にあてはまる短文を15字以内で答えなさい。

輸出品目	金額(十億円)	割合(%)	輸入品目	金額(十億円)	割合(%)
(①)	688.0	7.5	(①)	911.3	9.9
科学光学機器	672.7	7.3	医薬品	858.6	9.3
金(非貨幣用)	568.8	6.2	通信機	805.6	8.7
電気回路用品	361.7	3.9	科学光学機器	708.9	7.7
映像記憶・再生機器	310.5	3.4	コンピュータ	694.4	7.5
計	9228.8	100.0	計	9240.6	100.0

(『日本国勢図会 2012/13』より作成)

「(①)の製品の割合がAの空港で多いのは、この製品が【 】なため、航空機で輸送しても十分に採算が取れるからである。」

(2) 次の表は、日本に観光などで短期滞在することを目的にやってきた外国人の数と日本から外国に出かけた人の数をしめしたものです。また、のちの文は、表中の①・②の国についてのべたものです。①・②の国はどこですか。それぞれ正式名称で答えなさい。

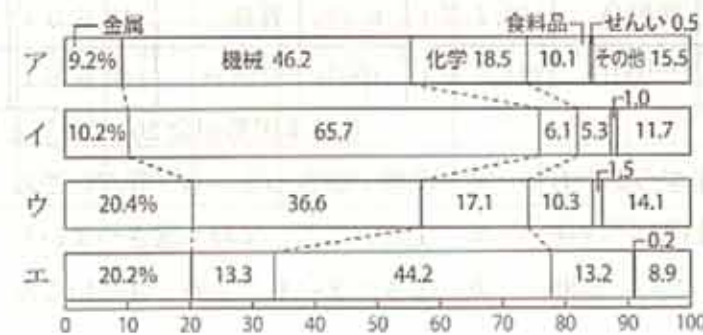
日本の短期滞在入国外国人数			日本人の海外旅行者数		
2011年	総数(千人)	%	訪問先(千人)	2010年	2011年
(①)	1,482	28.6	(②)	3731	3,658
[台湾]	953	18.4	(①)	3023	3,289
(②)	622	12.0	[台湾]	1,080	1,295
アメリカ	492	9.5	[香港]	1,317	1,284
[香港]	343	6.6	[ハワイ]	1,239	1,177
オーストラリア	148	2.9	タイ	994	1,126
タイ	120	2.3	アメリカ	1,068	1,106
総数	5,181	100.0	[グアム]	894	824

(『2013 データブックオブザワールド』より作成)

- ① 1910年に日本の植民地となったが、第二次世界大戦後に独立を果たした。現在は電気・電子機器や自動車などの生産を中心に産業が発達している。昨年(2013年)2月に初の女性大統領が就任した。
- ② 2010年にGDP(国内総生産)が日本を抜き、世界第2位となった。近年は「世界の工場」とよばれ経済成長がめざましいが、都市と農村、沿岸部と内陸部との格差や民族運動などの問題もかかえている。

問2 地図中Bの港は、石油や液化天然ガスなどの資源を多く輸入しています。

(1) この港で資源をたくさん輸入しているのは、周辺に大きな工業地域が広がっているからです。この工業地域の製造品出荷額の割合をしめしたグラフとして正しいものを、次のア～エから1つ選び、記号で答えなさい。グラフはBの港周辺の工業地域のほか、京浜工業地帯、中京工業地帯、阪神工業地帯をしめています。



(『日本国勢図会 2012/13』より)

(2) 次の①・②の表は、日本の鉄鉱石と銅鉱石のおもな輸入相手国をしめしています。表中の( X )・( Y )にあてはまる国を説明した文として正しいものを、のちの文ア～ウからそれぞれ1つずつ選び、記号で答えなさい。

①		②	
輸入相手国	金額による%	輸入相手国	金額による%
( X )	58.6	( Y )	43.7
ブラジル	31.7	( X )	13.9
南アフリカ共和国	4.3	ペルー	10.9
インド	2.2	インドネシア	9.3
( Y )	1.3	カナダ	8.3

ア この国は、国土のほとんどが1つの大陸から成り立っている。もともとイギリスの植民地だったが、現在はアジア・太平洋の国々との関係を重視している。

イ この国は半島に位置していて、国土の大半が砂漠である。イスラム教が生まれたところとして知られ、聖地には各国から多くの巡礼者が訪れる。

ウ この国の領土は南北に細長く、南端と北端の緯度の差が約35度もある。この国の沖合で発生した津波が、日本まで到達することがある。

(3) 近年、新技術の開発によって採掘されるようになり、アメリカ合衆国をはじめとして、世界的に注目を集めるようになった天然ガスを何といますか。カタカナで答えなさい。

(4) 次の①～③の表は、地図中A・Bの貿易港のある県でさかんに生産されている農畜産物の全国における生産上位3つの都道府県とその生産割合をしめたものです。①～③の農畜産物の組み合わせとして正しいものを、下のア～カから1つ選び、記号で答えなさい。

①			②			③		
鹿児島	35.0万t	40%	茨城	18.9万t	7.5%	千葉	16.4万t	10.9%
茨城	16.5万t	19%	千葉	18.9万t	7.5%	北海道	16.2万t	10.8%
千葉	11.7万t	13%	鹿児島	16.7万t	6.7%	青森	12.6万t	8.4%
全国計	88.6万t	100%	全国計	251.5万t	100%	全国計	149.6万t	100%

(『日本国勢図会 2012/13』より作成)

ア ①卵 ②だいこん ③さつまいも    イ ①卵 ②さつまいも ③だいこん  
 ウ ①だいこん ②さつまいも ③卵    エ ①だいこん ②卵 ③さつまいも  
 オ ①さつまいも ②だいこん ③卵    カ ①さつまいも ②卵 ③だいこん

問3 地図中C・Dの港のある都市は、通勤や通学などで互いに密接なつながりをもっています。

(1) Dの港のある都市は、1960年代以降、Dの港のある市が発表した計画にもとづいて、郊外の丘陵地帯に大規模な住宅地が開発されました。これと同じ時期、国が定めた計画などにより、Cの港のある都市やFの港のある都市の近郊でも同じような住宅地が建設されています。こうした住宅地を何といますか。カタカナ6字で答えなさい。

(2) Dの港では、近年大規模な再開発が行われています。この再開発についてのべた文として正しいものを、次のア～エから1つ選び、記号で答えなさい。

ア 近くの丘陵地の土砂をけずって埋め立てを行い、人工の島をつくった。大規模なコンテナ基地があり、2006年には近くの埋立地に新しい空港ができた。

イ かつての臨海工業地帯で行われている再開発である。商業施設のほか、ハリウッド映画をテーマにした大規模な娯楽施設などもつくられている。

ウ かつての造船所の跡地を利用した再開発で、ランドマークタワーが建設された。他にも昔の赤レンガづくりの倉庫を用いた商業施設などがつくられている。

エ 江戸時代の終わりごろに、外国の艦隊に備えて砲台が築かれたところである。現在はテレビ局やホテルのほか、公園や商業施設などが建設されている。

問4 地図中Eの港について、次の問いに答えなさい。

(1) 次の表のア～エは、旭川、新潟、Eの港のある都市、那覇のいずれかの都市の月別平均気温と降水量をしめたものです。Eの港のある都市にあてはまるものを、次のア～エから1つ選び、記号で答えなさい。なお、表は上の段が気温(℃)、下の段が降水量(mm)をしめています。

	1月	2月	3月	4月	5月	6月	7月	8月	9月	10月	11月	12月	全年
ア	17.0	17.1	18.9	21.4	24.0	26.8	28.9	28.7	27.6	25.2	22.1	18.7	23.1
	107.0	119.7	161.4	165.7	231.6	247.2	141.4	240.5	260.5	152.9	110.2	102.8	2040.8
イ	4.5	5.2	8.7	14.4	18.9	22.7	26.4	27.8	24.1	18.1	12.2	7.0	15.8
	48.4	65.6	121.8	124.8	156.5	201.0	203.6	126.3	234.4	128.3	79.7	45.0	1535.3
ウ	-3.6	-3.1	0.6	7.1	12.4	16.7	20.5	22.3	18.1	11.8	4.9	-0.9	8.9
	113.6	94.0	77.8	56.8	53.1	46.8	81.0	123.8	135.2	108.7	104.1	111.7	1106.5
エ	2.8	2.9	5.8	11.5	16.5	20.7	24.5	26.6	22.5	16.4	10.5	5.6	13.9
	186.0	122.4	112.6	91.7	104.1	127.9	192.1	140.6	155.1	160.3	210.8	217.4	1821.0

(『2013データブック オブ ザ ワールド』より)

(2) Eの港のある都市から少しはなれたところには、木曾川・長良川・揖斐川の3つの川が流れ、昔からしばしば水害が発生していました。この地域で水害を防ぐためにつくられた建物としてあてはまるものを、次のア～エから1つ選び、記号で答えなさい。

ア



イ



ウ



エ



問5 地図中F・Gの港のある都市も、互いに密接なつながりをもっています。

(1) Fの港のある都市は、伝統的に商業がさかんです。次のグラフは日本の卸売販売額の移り変わりをしめしたものです。グラフ中の①～③にあてはまる都道府県の組み合わせとして正しいものを、のちのア～カから1つ選び、記号で答えなさい。

1960年 18.5兆円	① 27.5%	② 27.3	③ 10.9	その他 34.3
2007年 413.5兆円	12.6%	39.9	8.5	その他 39.0

(平成19年商業統計表, ほか)

- ア ①・大阪府 ②・東京都 ③・愛知県    イ ①・大阪府 ②・愛知県 ③・東京都  
 ウ ①・東京都 ②・大阪府 ③・愛知県    エ ①・東京都 ②・愛知県 ③・大阪府  
 オ ①・愛知県 ②・大阪府 ③・東京都    カ ①・愛知県 ②・東京都 ③・大阪府

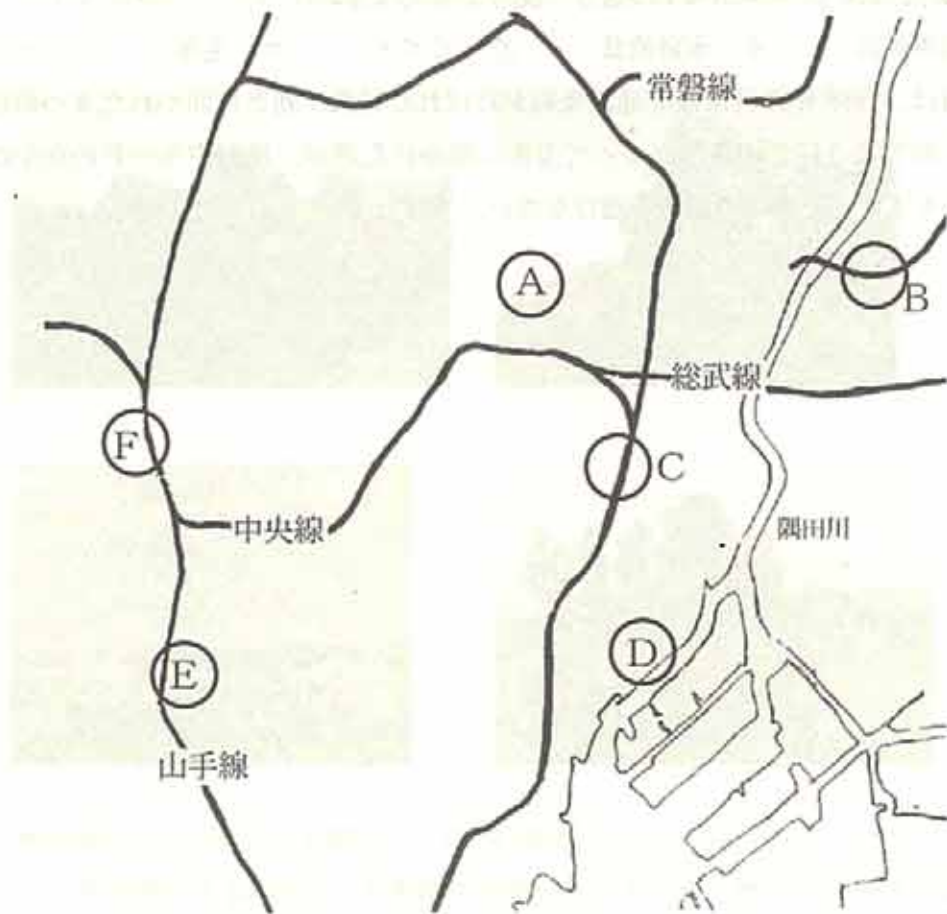
(2) F・Gの港の周辺には、日本を代表する工業地帯の1つが広がっています。Fの港のある都道府県が、2010年現在で全国一の生産額をしめている工業製品としてまちがっているものを、次のア～エから1つ選び、記号で答えなさい。

- ア 自転車部品    イ 水彩絵具    ウ ピアノ    エ 毛布

(3) Gの港は、1858年に日米修好通商条約が結ばれた結果、新たに開かれた4つの港の1つです。同じようにこの条約によって実際に開かれた港が、地図中A～Fのなかにもう1か所あります。その港の記号を選びなさい。



2 下の地図は東京中心部のおもな路線などをしめたものです。地点①～⑥について説明したそれぞれの文を読み、以下の問いに答えなさい。



A 地点①には江戸時代から湯島聖堂や湯島天神があり、学問の神様として①孔子や菅原道真がまつられていました。そのような学問や文化が深く根づいたこのあたりには、明治時代になって現在の②東京大学がつけられたほか、森鷗外や③樋口一葉など多くの作家や文学者が住んでいたことが知られます。

問1 下線部①の孔子の教えには、親に対する孝行の大切さなどが含まれていました。その考え方をとり入れて1890年に天皇からの言葉という形式をとって発布された次の文書を何と申しますか。答えなさい。文章は読みやすいように、漢字とひらがなの文章などに改めてあります。

朕惟うに…(中略)。我が臣民克く忠に克く孝に億兆心を一にして、…(中略)。爾臣民、父母に孝に、兄弟に友に、夫婦相和し、朋友相信じ、燕飧己れを持し博愛衆に及ぼし…(後略)。

問2 下線部②の東京大学について、

(1) 東京大学の敷地の多くは、江戸時代に加賀の前田藩や水戸の徳川藩の屋敷があったところです。大名と江戸幕府の関係など、武士についてのいろいろななまきをまとめた法律を何と申しますか。漢字で答えなさい。

(2) 東京大学の敷地の付近には弥生遺跡があり、ここでの発見が弥生時代や弥生土器の研究のきっかけになりました。これと同じように、縄文時代よりも前の時代の研究のきっかけとなった遺跡は何ですか。また、その遺跡を発見し、研究のきっかけをつくった人物は誰ですか。遺跡とそれを発見した人物の組み合わせが正しいものを、次のア～カから1つ選び、記号で答えなさい。

- ア 岩宿遺跡-相沢忠洋      イ 大森貝塚-相沢忠洋      ウ 登呂遺跡-相沢忠洋  
エ 岩宿遺跡-モース      オ 大森貝塚-モース      カ 登呂遺跡-モース

問3 次の文I・IIは、下線部③の樋口一葉と同じ明治から大正時代にかけて活躍した女性について説明したものです。I・IIの説明にあてはまる人名の組み合わせが正しいものを、下のア～カから1つ選び、記号で答えなさい。

- I 岩倉具視の使節団の一人としてアメリカに行き、いろいろな学問を学んだのち、帰国して女性のための学校を設立した。  
II 女性の権利拡大を訴えて雑誌『青鞥』を発行し、その始まりのところで「元始、女性は太陽であった」ととなえた。

- ア I-新島八重      II-与謝野晶子      イ I-新島八重      II-平塚らいてう  
ウ I-新島八重      II-津田梅子      エ I-津田梅子      II-与謝野晶子  
オ I-津田梅子      II-平塚らいてう      カ I-津田梅子      II-新島八重

B 地点④には、現在、新しい東京のシンボルとしての東京スカイツリーがあります。その高さ634mは、東京を含む地域をわかし④武蔵国と申していたことに由来していることはよく知られます。東京スカイツリーのもよりの私鉄の駅は、以前は⑤業平橋駅と申しましたが、東京スカイツリーの開業とともに駅名も改められました。

問4 下線部④のような古い国名は、半島や山脈など自然の地名や鉄道の路線名などに今も使われています。次の地名に使われている古い国名をそれぞれ答えなさい。

- (1) 静岡県中部の古い国名がつけられているその湾には、富士川が流れ注いでいるほか、伊豆半島などによって囲まれている。  
(2) 石川県北部の古い国名がつけられた日本海につき出た半島の沖合を震源として、2007年3月に大きな地震が発生、大きな被害が出た。

問5 下線部⑤の業平橋の名まえは、平安時代の和歌の名人の一人である在原業平という人物に由来しています。10世紀初めにそのころの和歌を集めてつくられた書物は何ですか。次のア～エから1つ選び、記号で答えなさい。

- ア 『古事記』 イ 『古今和歌集』 ウ 『新古今和歌集』 エ 『風土記』

問6 下線部⑥の平将門は、平安時代前期の武将で、関東地方で反乱を起こしました。日本の歴史の中で起こったいろいろな反乱や内乱について説明したものとしてまちがっているものを、次の文ア～エから1つ選び、記号で答えなさい。

- ア アテルイが律令政府に対して起こした反乱は、10年以上つづき、征夷大將軍に任じられた坂上田村麻呂によってしずめられた。  
 イ 將軍が代わったのをきっかけに滋賀や京都、奈良で農民たちが正長の上一揆を起こし、中には借金の帳消しを勝ちとるものもあった。  
 ウ 大塩平八郎が大阪（大坂）で起こした反乱は、すぐにしずめられたものの、幕府に衝撃を与え、水野忠邦が寛政の改革をはじめるときかけとなった。  
 エ 明治政府の政治に不満をもつ西郷隆盛らがはじめた西南戦争は、徴兵令により集められた軍隊によって鎮圧された。

問7 下線部⑦の東京駅の周辺の一部は、八重洲とよばれ、この地名は徳川家康に仕えたオランダ人の名前が由来になっているといわれます。オランダの位置を、地図中のア～エから1つ選び、記号で答えなさい。



問8 下線部⑧の2012年には、京都大学の山中伸弥教授がノーベル生理学・医学賞を受賞しています。この賞がもうけられるきっかけとなったノーベルが発明したものを、次のア～エから1つ選び、記号で答えなさい。

- ア 映画 イ ダイナマイト ウ 電話  
 エ 飛行機

問9 下線部⑨の本願寺は、浄土真宗の重要な寺です。この宗派について説明したものとして正しいものを、次の文ア～エから1つ選び、記号で答えなさい。


- ア 法然によってはじめられた。  
 イ 念仏をとこなえることを重んじた。  
 ウ 「南無妙法蓮華經」ととこなえることを説いた。  
 エ 座禪を行うことを大切なこととした。

問10 空らん⑩にあてはまる人物は、戊辰戦争中に新政府軍と交渉して江戸を戦火から守ったことでも知られます。この人物はだれですか。名前を漢字で答えなさい。

問11 下線部⑪の農村の様子のうち、江戸時代の農村の様子を説明したものとしてまちがっているものを、次の文ア～エから1つ選び、記号で答えなさい。

- ア 田への水のとり入れや排水のために、踏車とよばれる水車が用いられた。  
 イ 田を深く耕すための道具として、刃が3本や4本に分かれた備中鍬が用いられた。  
 ウ 肥料は草木を焼いて灰にしたものなどが使われ、わざわざ購入することはなかった。  
 エ 収穫した稲は、千歯こきを使ってもみが落とされた。

問12 下線部⑫の右絵は「富嶽三十六景」の1つです。この絵を描いた人名を答えなさい。



- F 地点㉑は㉒東京都庁や多くの高層ビル群がある新宿です。この地名は、「新しい㉓宿場町」という意味から名づけられたものです。現在の都庁のあるあたりには40年ほど前まで「淀橋浄水場」があり、都心に水を供給するうえで重要な役割をはたしました。そうした新宿と水とのつながりは江戸時代までさかのぼることができ、( ㉔ ) を通じて流れてきた水は、このあたりを経て江戸の町の中に分配されていました。

問13 下線部㉔の東京都庁は、東京都知事をはじめとする東京都の行政を担当する部分と東京都議会からなっています。都道府県知事や都道府県議会について説明したものとしてみちがっているものを、次の文ア～エから1つ選び、記号で答えなさい。

- ア 都道府県知事も、都道府県議会議員もともに、満25歳以上の国民に被選挙権が与えられ、それぞれ別の選挙でえられる。
- イ 都道府県知事も、都道府県議会議員もともに、任期は4年である。
- ウ 都道府県知事は、住民から条例を制定あるいは廃止する請求、求めがあった場合、それを議会に提案しなければならない。
- エ 都道府県知事も、都道府県議会もともに、住民からのリコールや解散の請求があった場合、住民投票を通じてやめさせられる、あるいは解散される可能性がある。

問14 下線部㉕の宿場町は、五街道など多くの街道ぞいに見られ、行き来する人たちにいろいろなサービスを提供しました。木賃宿とともに、一般の人たちも利用できる宿泊のための施設を何といいますか。次のア～エから1つ選び、記号で答えなさい。

- ア 旅籠
- イ 飛脚
- ウ 本陣
- エ 脇本陣

問15 次の文は、空らん㉖にあてはまるものについて説明したものです。これを参考にして、空らん㉖にあてはまる言葉を漢字で答えなさい。

17世紀中ごろ、人口が増加する江戸の飲料水不足に対応するため、多摩川から水を取り入れることがくわだてられた。幕府から工事をまかされた庄右衛門・清右衛門の兄弟は、1年余りの工事ののち、( ㉖ ) を完成させた。( ㉖ ) は江戸の飲料水だけではなく、武蔵野台地に新田を開発するためにも大いに利用された。

