

2014 社 会

注 意

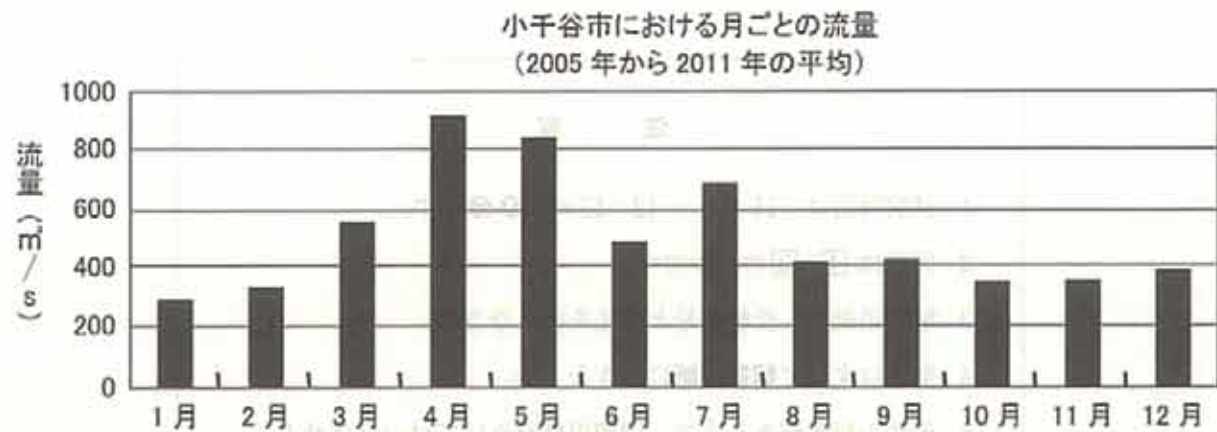
1. 試験時間は、11:45～12:15の**30分**です。
2. 問題は ①・②の2つです。
3. 解答用紙に、受験番号と氏名を書きなさい。
4. 解答はすべて**解答用紙**に書きなさい。
5. 先生の指示があるまで、問題用紙をあけてはいけません。
6. 問題についての質問はうけません。
7. 試験が終わったら、解答用紙を裏返しにしておきなさい。

1 日本の川について書かれた次の文章を読み、以下の問いに答えなさい。

雨や雪の多い日本では、各地にたくさんの川が流れています。日本の川は河川法という法律で管理され、①おもに国が管理している河川を一級河川、都道府県が管理している川を二級河川と呼びます。日本で最も長い川は②信濃川で、その長さは367 km、③流域面積が最も大きい川は④利根川で、その面積は1万6870 km²あります。しかし、世界の大きな川と比べると、日本の川はとても短く、流域面積が小さいという特徴があります。世界で最も長い⑤ナイル川の長さは6695 km、世界最大の⑥アマゾン川の流域面積は705万km²もあります。

山がちな日本では、川の流れが急なため、上流で土地がけずられます。けずられた土砂は下流に運ばれて⑦山のふもとや河口など、川の流れる速度がゆるやかになるところにたまります。日本の⑧平野は川の運んだ土砂によってつくられています。平野では、さまざまな産業や文化が発達し、川の水は生活用水や、農業用水、工業用水などに利用されています。

- 問1 下線部①について、一級河川を管理する省を答えなさい。
 問2 下線部②について、次の図は信濃川中流にある小千谷市での月ごとの流量を示したものです。4月に川の流量が大きくなっている理由を15字以内で答えなさい。



(『水文水質データベース』より作成)

問3 下線部③について、流域面積についてのべた次の文ア～エから、正しいものを1つ選び、記号で答えなさい。


- ア 河口の幅とその川の長さをかけたものである。
- イ 降った雨が川に集まる地域の面積である。
- ウ 川の水かさが最も増えたときの川の面積である。
- エ 川が流れる市町村の面積の合計である。

問4 下線部④について、次の表は利根川が流れている県についての統計を示したものです。A、Bにあてはまる県名を、それぞれ漢字で答えなさい。

	人口 (千人)	農業 産出額 (億円)	農産物生産量		工業製品 出荷額 (億円)	産業別製造品出荷額 (億円)			
			米 (t)	キャベツ (t)		化学工業	鉄鋼業	電気機械 器具	輸送用 機械器具
A	2,958	4,306	396,900	85,300	108,777	13,087	8,704	8,870	3,653
B	6,214	4,048	322,000	128,100	124,137	27,399	16,697	1,875	1,537
C	7,207	2,004	170,800	15,100	129,628	14,556	3,459	4,888	21,123
D	2,001	2,226	88,200	240,800	75,651	5,173	2,792	3,231	25,008

(『日本国勢図会 2012/13年版』より作成)

問5 下線部⑤について、ナイル川の流域は四大文明の1つがさかえた場所です。ナイル川流域にさかえた文明に最も関係が深いものを、次のア～エから1つ選び、記号で答えなさい。



問6 下線部⑥について、次の表はアマゾン川の河口がある国の日本への輸出品を示したものです。

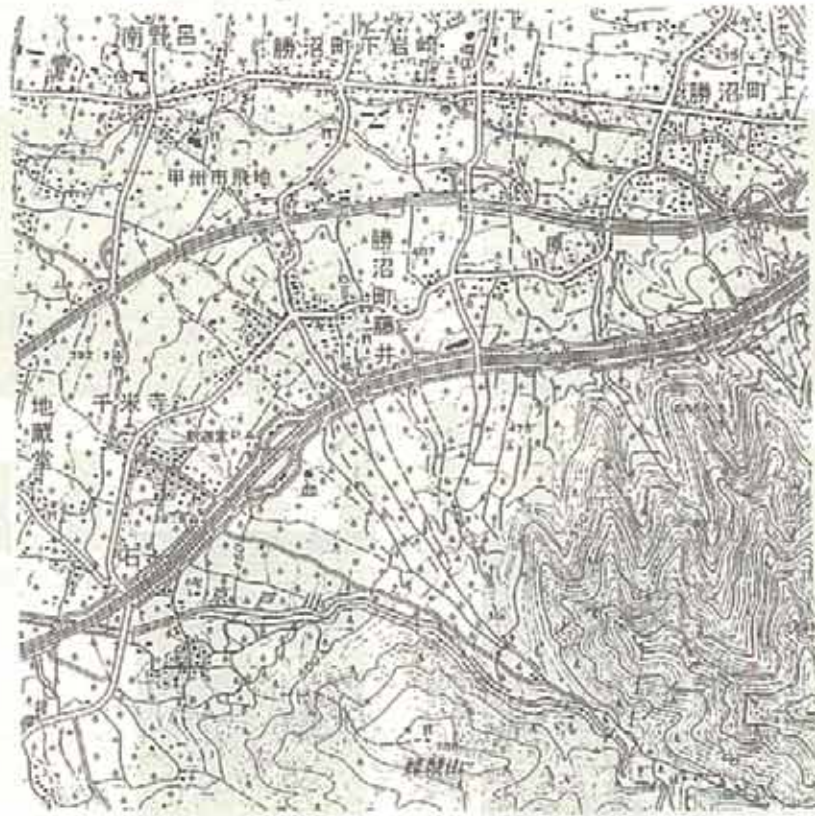
【 X 】,【 Y 】にあてはまる品目の組み合わせとして正しいものを、次のア～カから1つ選び、記号で答えなさい。

- ア X—石炭 Y—コーヒー
- イ X—石炭 Y—綿花
- ウ X—原油 Y—コーヒー
- エ X—原油 Y—綿花
- オ X—鉄鉱石 Y—コーヒー
- カ X—鉄鉱石 Y—綿花

日本への輸出品	金額(十億円)	割合
【 X 】	541.1	53.6%
肉類	120.3	11.9%
【 Y 】	54.2	5.4%
アルミニウム	44.5	4.4%
有機化合物	37.2	3.7%

(『日本国勢図会 2012/13年版』より作成)

問7 下線部⑦について、次の地形図を見て、各問いに答えなさい。



- (1) この地形図には川が運んだ土砂が山のふもとにたまってできた地形が見られます。このような地形を何というか答えなさい。
- (2) (1)で答えた地形の中央部はどのような土地利用になっていますか。地図記号を見て答えなさい。

問8 下線部⑧について、次のA～Dの文章は日本の平野についてのべたものです。これを読み、各問いに答えなさい。

- A この平野は、日本有数の畑作地帯となっている。農家1戸当たりの面積は約30haあり、大型の機械が利用されている。てんさいやじゃがいも、とうもろこし、(x)大豆などの栽培がさかんである。
- B この平野は、江戸時代から多くの水田がひらかれ、稲作がさかんな地域である。また平野の西部では、第二次世界大戦後に稲作の裏作としてはじめられた、チューリップの栽培がさかんである。平野の中央を流れる川では(y)上流の鉱山からの廃水に含まれるカドミウムを原因とする公害病が発生した。
- C この平野は、大きな川がなく降水量が少なかったため、古くからかんがい用のため池がつくられていた。1970年代に(z)南側の県にある川からトンネルで水を引く用水が建設されたことで、野菜などを栽培する農家が増加している。
- D この平野は、温暖で降水量が多い気候をいかし、かつては米の二期作がさかんであった。現在では、ビニールハウスなどを利用した野菜、果樹、花などの栽培が中心となっている。特に野菜の促成栽培がさかんで、ピーマン、なすなどの生産が多い。

(1) A～Dの平野の位置を、地図中のア～カからそれぞれ1つずつ選び、記号で答えなさい。

(2) 下線(x)について、日本がもっとも多く大豆を輸入している国を答えなさい。

(3) 下線(y)について、公害に関する次のア～エの出来事を古い順に並べなさい。

ア 環境省が設置された。

イ 足尾銅山鉱毒事件がおこった。

ウ 公害対策基本法がつけられた。

エ 水俣病が発生した。

(4) 下線(z)について、この川の名前を漢字で答えなさい。



2 次の文章は、ある中学校で「塔」について先生と生徒が会話しているようです。これを読み、各問いに答えなさい。

生徒A：塔と言ってもいろいろなものがありますね。

先生：塔という言葉は、もともと①仏教から来ています。お釈迦様のお骨を保管する建物としてつくられたものです。仏教が生まれた国から②中国に伝わり、漢字で塔と書かれるようになったんです。だから、日本でも③江戸時代のころまでは塔といえば仏教寺院にある塔のことだろうね。たとえば古代の④出雲大社は、高さが48 mくらいあったという説があるけど、言葉の本来の意味では塔とは言わないでしょう。高い建物でも⑤お城の天守閣や、やぐらなんかもやはり同じです。ところで、お寺の塔というと、なにか有名なものをあげられるかな？

生徒A：⑥薬師寺東塔とか、⑦東寺の塔とかですか。奈良や京都に旅行したとき見学しました。

先生：そうそう、日本で独自に発達した美しい塔ですね。

生徒B：でも、東京タワーだって塔じゃないんですか？

先生：ええ、もちろんそうですよ。英語のタワーの日本語訳にもなっているから、明治以降は高い建物を塔と名づけることが多いですね。⑧大阪万博のときにつくられた太陽の塔とか。

生徒A：太陽の塔は写真で見たことがありますけど、すごく不思議な建物ですね。

先生：作者は岡本太郎という昭和の⑨日本を代表する芸術家です。⑩縄文時代の土偶をヒントにつくったそうですよ。塔というのはその時代や地域のシンボルになるよね。

生徒B：昭和の東京の塔といたら、やっぱり電波塔の東京タワーですよ。昭和33年の完成で高さ333 m、⑪大阪の通天閣と同じ人が設計したんです。

先生：ずいぶんくわしいんだね。では、同じ東京だけど浅草十二階という塔は知ってるかな？

生徒B：な、なんですかそれ、はじめて聞きました。

先生：浅草十二階というのは、正式には凌雲閣と言うんだけど、⑫1890年に建てられた、高さ50 mのレンガづくりのタワーです。いわば、⑬明治後半から大正にかけての東京のシンボルですね。日本ではじめて電動式エレベーターが設置されて、展望室が人気だったそうです。

生徒A：へえ～、そんなものがあつたなんて知らなかったな。今でもありますか？

先生：いや、残念ながら関東大震災の際に倒壊してしまいました。⑭大正時代の浅草は東京でもっともにぎやかな場所だったんだけどね。関東大震災と、もっとあとの東京大空襲で、東京はたいへんな被害にあっているし、戦後の急激な開発もあるから、⑮同じ東京といっても、その時代その時代によって、雰囲気はずいぶん違っているものです。だから、地域の歴史を調べると意外な発見がたくさんありますよ。

生徒たち：夏休みの地域調査の課題が楽しみです。ありがとうございました。

問1 下線部①について、日本の仏教について説明したものとしてみちがっているものを、次の文ア～エから1つ選び、記号で答えなさい。

- ア 厩戸皇子（聖徳太子）は蘇我馬子と協力して、仏教をおもんじる政治をおこなった。
- イ 平安時代の後半には、浄土信仰がはやり、中尊寺金色堂などの阿弥陀堂が建てられた。
- ウ 鎌倉時代には、禅宗のなかでも、栄西の臨済宗は幕府に保護されてさかんであった。
- エ 室町時代末期、山城国では浄土宗の信者を中心に一揆がおこり、守護から国をうばった。

問2 下線部②について、次の文は古代の中国と日本のかかわりについて説明しています。空らん

に当てはまる人名を、漢字で答えなさい。
「朝廷は中国のすすんだ文化や制度を取り入れるため、630年に第1回目の遣唐使を送った。また、中国の高僧（ ）が、遣唐使船に乗って、苦難の末、753年によく日本にわたり、奈良に唐招提寺を建てたり、日本の仏教の制度を整えるなど活躍した。」

問3 下線部③について、江戸時代の出来事について説明したものとしてみちがっているものを、次の文ア～エから1つ選び、記号で答えなさい。

- ア 3代将軍家光のとき、参勤交代の制度が、武家諸法度にさだめられた。
- イ 8代将軍吉宗は、公事方御定書をさだめたり、日安箱をもうけるなどした。
- ウ 天明のききんや自然災害で農村が荒れたため、寛政の改革では農村の復興に力を入れた。
- エ 日米修好通商条約で、日本は治外法権を失い、関税自主権をみとめた。

問4 下線部④について、出雲大社の位置を、下の地図のA～Eから1つ選び、記号で答えなさい。また所在する県名を漢字で答えなさい。



問5 下線部⑤について、日本にはたくさんの城がありますが、城について説明したものとしてみちがっているものを、次の文ア～エから1つ選び、記号で答えなさい。

- ア 安土城は、豊臣秀吉により建てられた。
- イ 江戸城は、明治時代から皇居になった。
- ウ 上杉氏の城下町は、甲府である。
- エ 姫路城は、岡山県に所在する。

問6 下線部㉑について、薬師寺を建てさせたのは当時の天皇でした。壬申の乱に勝利した大海人皇子が即位してこの天皇になりましたが、その天皇としての名前を漢字で答えなさい。

問7 下線部㉒について、東寺（教王護国寺）は平安京を守る目的で建てられました。平安時代の出来事について説明したものとしてまちがっているものを、次の文ア～エから1つ選び、記号で答えなさい。

- ア 貴族の多くは、悪い霊が災いをおこすと考え、うらないや祈りをおもじた。
- イ かな文字が発達し、紫式部の『源氏物語』や清少納言の『枕草子』が書かれた。
- ウ 院政をおこなった代々の上皇は、僧兵を保護し源氏や平氏の勢力をおさえようと努めた。
- エ 平清盛は日宋貿易をおこない、陶磁器や絹織物などを輸入し、刀剣や扇などを輸出した。

問8 下線部㉓について、大阪万博は1970年に開催されましたが、このころ、一般の家庭に普及し「3C」とよばれた3つの製品がありました。その1つは自動車（カー）です。あとの2つの組み合わせとして正しいものを、次のア～エから1つ選び、記号で答えなさい。

- ア カラーテレビ・洗濯機 イ カラーテレビ・クーラー
- ウ パソコン・クーラー エ パソコン・洗濯機

問9 下線部㉔について、日本を代表する芸術家・文学者とその時代と作品の組み合わせとしてまちがっているものを、次のア～オから2つ選び、記号で答えなさい。

- ア 松尾芭蕉 — 元禄時代 — 『奥の細道』
- イ 尾形光琳 — 化政時代 — 『東海道五十三次』
- ウ 夏目漱石 — 明治時代 — 『坊っちゃん』
- エ 滝廉太郎 — 大正時代 — 『君が代』
- オ 手塚治虫 — 昭和時代 — 『鉄腕アトム』

問10 下線部㉕について、下の図版は縄文土器です。縄文土器は世界で最古級の土器だと言われています。土器の登場によって、煮たきするなど、調理ができるようになりました。では、調理以外にできるようになったことは何ですか。考えて次の文の空らん に8字以内で答えなさい。

「食物を（ ）ができるようになった。」



問11 下線部㉖について、江戸時代、江戸が「将軍のおひざ元」とよばれたのに対し、商業・経済がさかんだった大阪（大坂）は何とよばれましたか。5字で答えなさい。

問12 下線部㉗について、この年、日本で初めて帝国議会が開かれました。では、現代の日本の国会のはたらきについて説明したものとしてまちがっているものを、次の文ア～エから1つ選び、記号で答えなさい。

- ア 内閣総理大臣を任命する。
- イ 条約を承認する。
- ウ 裁判官を裁判することができる。
- エ 憲法改正の発議をすることができる。

問13 下線部㉘について、次の文の空らん にあてはまる地名を答えなさい。またその位置を下の地図中のア～エから1つ選び、記号で答えなさい。

「明治後半の重要な出来事に日露戦争がある。この戦争は、アメリカ大統領の仲介により、ポーツマス条約が結ばれて終わった。この条約でロシアは、朝鮮での日本の優越権や、リャオトン半島を中国から借りる権利と南満州鉄道を日本にゆずること、さらに（ ）の南半分を日本にゆずることなどを認めた。」



問14 下線部⑭について、大正時代についてのべた次の文の空らんにあてはまる人名を、漢字で答えなさい。

「この時代は大正デモクラシーの風潮がひろまった。そのなかでも()は民本主義という思想をとらえ、普通選挙の必要もうったえた。」

問15 下線部⑮について、次の図版ア～ウは、昭和の東京に登場したポスターです。登場したのが年代順になるように記号を並べなさい。

ア



イ



ウ



